




















QR	Cvičení	Ukázka	QR
	<p>Výpočty s absolutní hodnotou ... Absolutní hodnota – výpočty ≡ 5 otázek ⌚ 240 min 🏆 obtížnost 9 NAKUMC 📄 výběr z možností</p>	<p>Vypočítej: $2.5 - -2.5 + -5 * 2.5 ...$</p>	
	<p>Výpočty s absolutní hodnotou ... Absolutní hodnota – výpočty ≡ 10 otázek ⌚ ∞ min 🏆 obtížnost 9 WEDABM 📄 výběr z možností</p>	<p>Vypočítej: $- -\frac{2}{5} - -\frac{3}{5} + -1 ...$</p>	
	<p>Výpočty s absolutní hodnotou ... Absolutní hodnota – výpočty ≡ 5 otázek ⌚ 240 min 🏆 obtížnost 9 RUGELV 📄 zadání hodnoty</p>	<p>Vypočítej:Není-li výsledek celé číslo, napiš ... 9.99</p>	
	<p>Výpočty s absolutní hodnotou ... Absolutní hodnota – výpočty ≡ 10 otázek ⌚ ∞ min 🏆 obtížnost 9 TAHUCN 📄 zadání hodnoty</p>	<p>Vypočítej:Není-li výsledek celé číslo, napiš ... $3 * 5 - 8 + 6$</p>	
	<p>Vlastnosti funkce absolutní ... Hodnota funkce v bodě, maximum, ... ≡ 5 otázek ⌚ 240 min 🏆 obtížnost 9 SELADW 📄 výběr z možností</p>	<p>Urči, ve kterém bodě má funkce g minimum: $g : y = x + 3$ Napiš $y - ovou...$</p>	
	<p>Vlastnosti funkce absolutní ... Hodnota funkce v bodě, maximum, ... ≡ 10 otázek ⌚ 420 min 🏆 obtížnost 9 FUPEBR 📄 výběr z možností</p>	<p>Urči hodnotu funkce f v bodě -100 $f : y = 3 * x - 1$</p>	
	<p>Vlastnosti funkce absolutní ... Hodnota funkce v bodě, maximum, ... ≡ 20 otázek ⌚ ∞ min 🏆 obtížnost 9 KAXUMT 📄 výběr z možností</p>	<p>Urči hodnotu funkce f v bodě 5 $f : y = -1.5 * x$</p>	
	<p>Vlastnosti funkce absolutní ... D(f), H(f), graf, omezenost, monotónnost ... ≡ 5 otázek ⌚ 240 min 🏆 obtížnost 9 DEBACS 📄 výběr z možností</p>	<p>Urči definiční obor $D(h)$ funkce h: $h : y = - x + 4 - 4$</p>	
	<p>Vlastnosti funkce absolutní ... D(f), H(f), graf, omezenost, monotónnost ... ≡ 10 otázek ⌚ 420 min 🏆 obtížnost 9 GUCELF 📄 výběr z možností</p>	<p>Urči obor hodnot funkce f: $f : y = x + 3 - 8$</p>	
	<p>Vlastnosti funkce absolutní ... D(f), H(f), graf, omezenost, monotónnost ... ≡ 20 otázek ⌚ ∞ min 🏆 obtížnost 9 HAMUDK 📄 výběr z možností</p>	<p>Urči pomocí náčrtku grafu, pro která x je funkce ... $h : y = x - 7$</p>	
	<p>Vlastnosti funkce absolutní ... Hodnota funkce v bodě, maximum, ... ≡ 5 otázek ⌚ 240 min 🏆 obtížnost 9 LEVAMD 📄 zadání hodnoty</p>	<p>Urči, ve kterém bodě má funkce h minimum:Není-li ... $h : y = x - 4 + 1$ Napiš $x - ovou...$</p>	

QR	Cvičení	Ukázka	QR
	<p>Vlastnosti funkce absolutní ... Hodnota funkce v bodě, maximum, ... ≡ 10 otázek ⌚ 420 min 📌 obtížnost 9 PUNEVG <input type="checkbox"/> zadání hodnoty</p>	<p>Urči, ve kterém bodě má funkce h maximum: Není-li ... $h : y = - x - 6$ Napiš $x -$ovou...</p>	
	<p>Vlastnosti funkce absolutní ... Hodnota funkce v bodě, maximum, ... ≡ 20 otázek ⌚ ∞ min 📌 obtížnost 9 XAWUCH <input type="checkbox"/> zadání hodnoty</p>	<p>Urči hodnotu funkce f v bodě 5.5 Není-li výsledek ... $f : y = -8 * x + 5$</p>	
	<p>Absolutní hodnota – opakování ... Výpočty, hodnota funkce v bodě, ... ≡ 5 otázek ⌚ 240 min 📌 obtížnost 9 BERAML <input type="checkbox"/> výběr z možností</p>	<p>Urči průsečík grafu funkce f s osou y: $f : y = x$ Napiš $y -$ovou...</p>	
	<p>Absolutní hodnota – opakování ... Výpočty, hodnota funkce v bodě, ... ≡ 10 otázek ⌚ 420 min 📌 obtížnost 9 CUTEBP <input type="checkbox"/> výběr z možností</p>	<p>Urči, ve kterém bodě má funkce h minimum: $h : y = x + 10$</p>	
	<p>Absolutní hodnota – opakování ... Výpočty, hodnota funkce v bodě, ... ≡ 20 otázek ⌚ ∞ min 📌 obtížnost 9 MASUKX <input type="checkbox"/> výběr z možností</p>	<p>Zjisti pomocí náčrtku grafu, zda má funkce f ... $f : y = x - 3$</p>	
	<p>Absolutní hodnota – opakování ... Výpočty, hodnota funkce v bodě, ... ≡ 5 otázek ⌚ 240 min 📌 obtížnost 9 VEFACB <input type="checkbox"/> zadání hodnoty</p>	<p>Vypočítej: $2.3 - 2.1 - 2.2$ N...</p>	
	<p>Absolutní hodnota – opakování ... Výpočty, hodnota funkce v bodě, ... ≡ 10 otázek ⌚ 420 min 📌 obtížnost 9 NUKELC <input type="checkbox"/> zadání hodnoty</p>	<p>Urči, ve kterém bodě má funkce g maximum: $g : y = - x$ Napiš $y -$ovou...</p>	
	<p>Absolutní hodnota – opakování ... Výpočty, hodnota funkce v bodě, ... ≡ 20 otázek ⌚ ∞ min 📌 obtížnost 9 WADUJM <input type="checkbox"/> zadání hodnoty</p>	<p>Vypočítej: $2 * -9 + 5 * -4$...</p>	